

**Fachausweis Haushalter /
Haushalterin 2006**

Schriftliche Prüfung

Zeit: 60 Minuten

**Haushaltsführung und
Haushaltspflege**

Name:

Vorname:

Datum:

Prüfungsnummer:

Bewertung

Die erreichbare Punktezahl ist bei jeder Aufgabe angegeben.
Die Aufgaben müssen nicht in der vorgegebenen Reihenfolge gelöst werden.

Notenskala

40	-	38	Punkte = Note 6
37	-	34	Punkte = Note 5,5
33	-	30	Punkte = Note 5
29	-	26	Punkte = Note 4,5
25	-	22	Punkte = Note 4
21	-	18	Punkte = Note 3,5
17	-	14	Punkte = Note 3
13	-	10	Punkte = Note 2,5
9	-	6	Punkte = Note 2
5	-	2	Punkte = Note 1,5
1	-	0	Punkte = Note 1

Unterschrift der Prüfungsexpertinnen

Punkte

Note

Thema

Als Haushalterin in einem kleinen Behindertenheim für Kinder und Jugendliche sind Sie verantwortlich für die Reinigung.

Die Heimleitung beauftragt Sie, dem Budget und Leitbild des Hauses gemäss, folgende Anschaffungen und Renovationen zu überdenken:

- Anschaffungen im Essraum: Servicegeschirr und Besteck
- Holzwände renovieren

Zudem machen Sie sich Gedanken zu zwei Themen für eine Mitarbeiterschulung.

Aufgaben		Punkte
<p>Ein Budgetposten ist zur Anschaffung eines neuen Service vorgesehen. Viele Teile des Geschirrs sind defekt und nicht mehr der Zeit angepasst. Ihr Vorgesetzter möchte Vorschläge/Kriterien von Ihnen erhalten, um sich ein Bild machen zu können und um die richtigen Vertreter anzusprechen.</p> <p>1. Welche Kriterien, <i>nebst Zweck, Verwendung und Form</i>, erscheinen Ihnen für den Einkauf wichtig?</p>		
Fragen	Aufzählung	
A. Einkaufskriterien (4)	- _____ - _____ - _____ - _____	
2. Welche Materialien, Merkmale, Eigenschaften und Form beachten Sie?		
Fragen	Aufzählung	
A. Keramikmaterialien (3)	- _____ - _____ - _____	
B. Erklären Sie und nennen Sie Merkmale von Keramikarten: (3)	- _____ - _____ - _____	/ 6
C. Keramikeigenschaften (6)	- _____ - _____ - _____ - _____ - _____ - _____	
D. Keramikeigenschaften speziell für den Grossbetrieb? (3)	- _____ - _____ - _____	
E. Beschreiben Sie die gewünschte Form des Service in Bezug auf den Verwendungszweck im Heim: (5)	- _____ - _____ - _____ - _____ - _____	
Übertrag		/6

Übertrag			/6
<p>3. Sie stellen Überlegungen an zur Wahl des Besteckes:</p> <p>A. Überlegungen: _____ _____</p> <p>B. Nennen Sie drei Materialien, die für Besteck geeignet sind, bezüglich ihrer Eigenschaften und Reinigung: (Je zwei (2) Eigenschaften und zwei (2) Empfehlungen zur Reinigung)</p>			/ 2
1.			/ 2
2.			
3.			
<p>C. Entscheiden Sie sich für ein (1) Material und begründen Sie dieses insbesondere bezüglich des Gebrauchs in ihrem Heim:</p> <p>_____</p> <p>_____</p>			/ 1
<p>4. Die Holzwände des Heims sind schon einige Jahre alt. Ein Facelifting würde ihnen gut tun. Damit die Kosten gering gehalten werden können, möchte der Verwalter, dass die Wände nur renoviert werden.</p> <p>Nennen Sie Vorschläge zur möglichen Renovierung der Holzwände.</p>			/ 4
Vorschlag	Aussehen der Holzwand/Struktur (je 2)	Folgende Pflege / Reinigung wird empfohlen (je 2)	
1			
2			
3			
Übertrag			/ 15

Übertrag

/15

5. Sie wollen eine Mitarbeiterschulung durchführen. Zwei Themen möchten Sie speziell bearbeiten:

- a) Massnahmen für eine heute sinnvolle und zeitgemässe Reinigung und
- b) das neue Giftgesetz zur Unfallverhütung.

a) Fünf (5) Massnahmen für eine heute sinnvolle und zeitgemässe Reinigung:

- _____

- _____

- _____

- _____




- _____

/ 5



b) Trotz ökologischer Putzschrankeinrichtungen, orientieren Sie über das am 1. August 2005 in Kraft getretene neue Giftgesetz. Diese Stoffe werden mit neuen Symbolen gekennzeichnet.


Benennen Sie unter den fünf (5) Punkten alle Gefahrensymbole:

1 T+ T Xn



  

2 C Xi



 

3 

4 F+ F

5 O E

/ 5

Übertrag

/ 25

	Übertrag / 25
<p>6. Eine Reinigungsplanung basiert auf einer guten Arbeitsverteilung über das ganze Jahr. Unterscheiden Sie die verschiedenen Reinigungsarten</p> <p>a) nach Arbeitsumfang und b) nach Häufigkeit.</p> <p>a) _____ _____</p> <p>b) _____ _____</p>	/ 4
<p>7. Instruieren Sie die Arbeitsgestaltung und den Arbeitsablauf einer Reinigungsart Ihrer Wahl.</p>	/ 3
	Übertrag / 32

Übertrag	/ 36
<p>9. Ein grosses Angebot von Reinigungsmitteln steht uns zur Verfügung. Nicht alle Mittel haben dieselben Inhaltsstoffe und werden für die gleichen Arbeiten verwendet.</p> <p>a) Erläutern und erklären Sie den PH-Wert bei Reinigungsmitteln. (3)</p> <p>_____</p> <p>_____</p> <p>_____</p> <p>_____</p> <p>b) In welchem Rahmen liegt der PH-Wert folgender Reinigungsmittel? (3)</p> <p>Allzweckreiniger: _____</p> <p>Sanitärreiniger: _____</p> <p>Grundreiniger zur Entfernung von Wachsbeschichtungen:</p> <p>_____</p> <p>Wir beleuchten einige Reinigungsmittel genauer:</p> <p>c) Wo und wie kann Allzweckreiniger eingesetzt werden? (2)</p> <p>_____</p> <p>_____</p> <p>_____</p> <p>_____</p> <p>d) Wie verhält sich Schmierseife bei hartem Wasser? (2)</p> <p>_____</p> <p>_____</p> <p>_____</p> <p>e) Beurteilen Sie die Umweltverträglichkeit von Sanitärreiniger? (2)</p> <p>_____</p> <p>_____</p> <p>_____</p>	<p style="text-align: right;">/ 4</p>
Total	/ 40